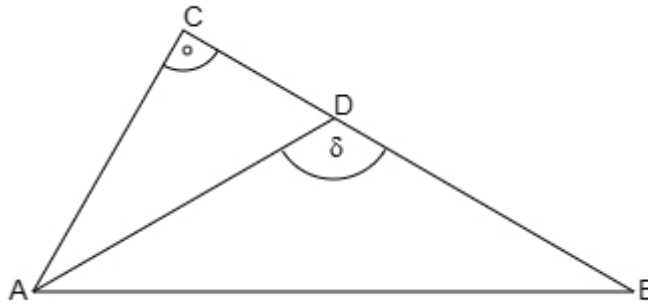


Mathematikaufgaben

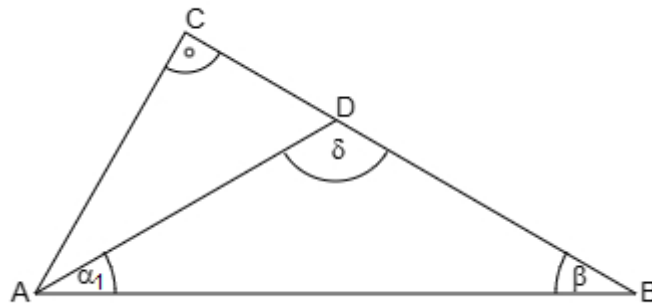
> Geometrie/Trigonometrie

> Dreieck

Aufgabe: Im rechtwinkligen Dreieck $\triangle ABC$ gilt: $\overline{AD} = \overline{BD}$, $\delta = 110,0^\circ$, $\overline{AB} = 12,0$ cm. Berechne den Flächeninhalt des Teildreiecks $\triangle ADC$.

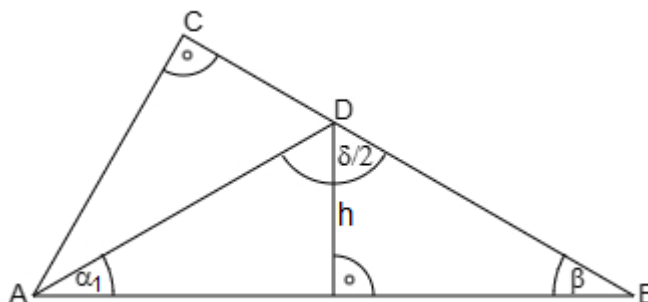


Lösung: I. Wir bestimmen zunächst die Winkel α_1 , β im gleichschenkligen Dreieck $\triangle ABD$ als:
 $\alpha_1 = \beta = (180^\circ - 110^\circ) / 2 = 35^\circ$.



II. Das gleichschenklige Dreieck $\triangle ABD$ wird durch die Höhe h in zwei rechtwinklige Dreiecke aufgeteilt. Die Seite $\overline{AB} / 2 = 6,0$ cm ist eine Kathete im rechtwinkligen Dreieck, so dass sich die Hypotenuse als Schenkellänge $\overline{AD} = \overline{BD}$ des Dreiecks $\triangle ABD$ errechnet mit dem Winkel $\beta = 35^\circ$:

$$\sin \beta = \frac{\overline{AB} / 2}{\overline{BD}} \Rightarrow \sin 35^\circ = \frac{6,0}{\overline{BD}} \Rightarrow \overline{BD} = \frac{6,0}{\sin 35^\circ} = 10,46 \text{ cm.}$$

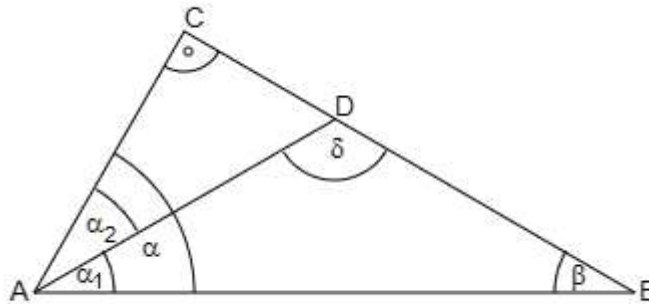


III. Wir errechnen den Winkel α_2 im Dreieck $\triangle ADC$, indem der Winkel α im rechtwinkligen Dreieck $\triangle ABC$ sich als:

$$\alpha = 90^\circ - \beta = 90^\circ - 35^\circ = 55^\circ$$

ergibt. Für den Winkel α_2 folgt dann:

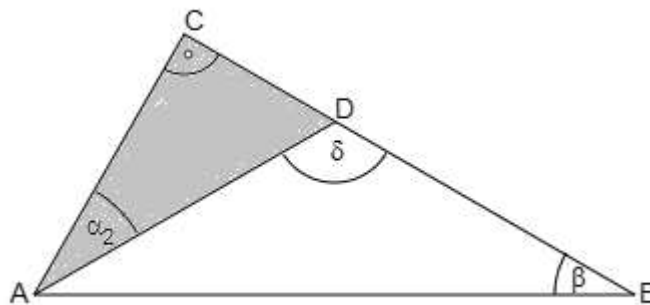
$$\alpha_2 = \alpha - \alpha_1 = 55^\circ - 35^\circ = 20^\circ.$$



IV. Im rechtwinkligen Dreieck $\triangle ADC$ ist die Hypotenuse $\overline{AD} = 10,46$ cm groß, der Winkel beträgt $\alpha_2 = 20^\circ$. Da sich der Flächeninhalt in einem rechtwinkligen Dreieck am besten über die Katheten bestimmen lässt, rechnen wir:

$$\sin \alpha_2 = \frac{\overline{CD}}{\overline{AD}} \Rightarrow \sin 20^\circ = \frac{\overline{CD}}{10,46} \Rightarrow \overline{CD} = 10,46 \cdot \sin 20^\circ = 3,58 \text{ cm}$$

$$\cos \alpha_2 = \frac{\overline{AC}}{\overline{AD}} \Rightarrow \cos 20^\circ = \frac{\overline{AC}}{10,46} \Rightarrow \overline{AD} = 10,46 \cdot \cos 20^\circ = 9,83 \text{ cm.}$$



V. Der gesuchte Flächeninhalt des Dreiecks $\triangle ADC$ wird über die Katheten berechnet und beläuft sich auf:

$$A_{\triangle ADC} = \frac{1}{2} \cdot \overline{AC} \cdot \overline{CD} = \frac{1}{2} \cdot 9,83 \cdot 3,58 = 17,60 \approx 17,6 \text{ cm}^2.$$